



FISCAL DE CONTROLE URBANO

31. (CONCURSO CRATO/2021) De acordo com a Lei Orgânica do Município do Crato, as competências privativas do município são:

- I. sinalizar as vias urbanas e as estradas do município;
- II. regulamentar, autorizar e fiscalizar a afixação de cartazes e anúncios, em locais sujeitos ao poder de polícia municipal;
- III. proteger o meio ambiente e combater a poluição, em qualquer de suas formas;
- IV. combater as causas da pobreza e os fatores de marginalização social dos setores desfavorecidos.

- A) I e II estão corretas
- B) somente II está correta
- C) II e III estão corretas
- D) III e IV estão corretas
- E) todas estão corretas

32. (CONCURSO CRATO/2021) De acordo com a Lei Orgânica do Município do Crato, onde trata sobre Obras e Serviços Públicos, sabe-se que nenhuma obra, salvo os casos de extrema urgência, devidamente justificados, serão realizadas sem que conste:

- A) o respectivo projeto e orçamento do custo;
- B) a indicação dos recursos financeiros e orçamentários para o atendimento das despesas;
- C) a viabilidade do empreendimento, sua conveniência e oportunidade para o interesse público;
- D) os prazos para o seu início e término;
- E) todas as alternativas acima estão corretas.

33. (CONCURSO CRATO/2021) De acordo com o Código de Posturas do Crato (Lei Nº 2280/2005), as obras ou serviços que podem ser iniciadas sem licença do órgão competente são:

- A) limpeza e pintura de edifícios que dependam de andaimes ou tapumes;

- B) reparos e substituição de revestimentos em geral, inclusive externos, até três pavimentos, desde que não haja alteração na fachada;
- C) reparos e pavimentação de passeios em geral;
- D) reparos e manutenção de instalações que impliquem aumento de capacidade;
- E) modificações em muros ou gradis existentes, inclusive alteamento, até a altura máxima de 3,50m (três metros e cinquenta centímetros).

34. (CONCURSO CRATO/2021) De acordo com o Código de Posturas do Crato (Lei Nº 2280/2005), é correto afirmar:

- I. qualquer demolição a ser realizada depende de licença do órgão competente da prefeitura;
- II. os serviços ou obras públicas ou privadas estarão sujeitos ao prévio licenciamento do Poder Público Municipal, entretanto não há necessidade de profissional, pessoal física ou jurídica, legalmente habilitado em todos os casos;
- III. os proprietários das obras são responsáveis, civil e penalmente, pela fiel execução dos projetos aprovados;
- IV. a falta de precaução e consequentes acidentes que envolvam operários e terceiros, por imperícia, negligência ou imprudência são de responsabilidade do profissional construtor da obra.

- A) somente II está correta
- B) I e IV estão corretas
- C) II e III estão corretas
- D) III e IV estão corretas
- E) I, III e IV estão corretas

35. (CONCURSO CRATO/2021) As placas de obras de acordo com o Código de Posturas do Crato (Lei Nº 2280/2005), deverão seguir as seguintes informações:

- A) estar em posição bem visível, afixada durante a execução dos serviços, escrita de forma legível, o nome por extenso e endereço do responsável pelos projetos, cálculos e construção, categoria profissional e número da respectiva inscrição junto ao órgão de classe o número do processo de aprovação e alvará de construção, as siglas da Prefeitura e do órgão expedidor;



- B) estar afixada durante a execução dos serviços, escrita de forma legível, o nome por extenso e endereço do dono da obra e ainda o prazo para conclusão da obra, o número do processo de aprovação e alvará de construção, as siglas da Prefeitura e do órgão expedidor;
- C) apenas estar em posição bem visível, afixada durante a execução dos serviços, escrita de forma legível, o prazo para conclusão da obra, o número do processo de aprovação e alvará de construção, as siglas da Prefeitura e do órgão expedidor;
- D) apenas estar em posição bem visível, afixada durante a execução dos serviços, escrita de forma legível, o nome por extenso e endereço do responsável pelos projetos, cálculos e construção, categoria profissional e número da respectiva inscrição junto ao órgão de classe e ainda o prazo para conclusão da obra, o número do processo de aprovação e alvará de construção, as siglas da Prefeitura e do órgão expedidor;
- E) apenas estar em posição bem visível, afixada durante a execução dos serviços, escrita de forma legível, o nome por extenso e endereço do responsável pelos projetos, cálculos e construção, categoria profissional e número da respectiva inscrição junto ao órgão de classe e ainda o prazo para conclusão da obra, o número do processo de aprovação e alvará de construção.

36. (CONCURSO CRATO/2021) A respeito da Ventilação e Iluminação assinale V (VERDADEIRO) ou F (FALSO):


- () a critério da Prefeitura Municipal do Crato, as condições de iluminação e ventilação naturais podem ser substituídas por meios artificiais;
- () todo compartimento de edifício, seja qualquer o seu destino, será iluminado e ventilado diretamente para o logradouro público, área, saguão, poço ou suas reentrâncias, satisfazendo as prescrições legais;
- () as caixas de escada, não poderão ser iluminadas de forma alguma por claraboia superior;
- () será permitido o envidraçamento de terraços de serviços ou passagem comum a mais de uma unidade habitacional, quando pelos mesmos se processar iluminação ou ventilação de outros compartimentos.

A sequência CORRETA é:

- A) V - V - F - V

- B) V - V - F - F
C) F - V - F - V
D) F - V - V - V
E) V - F - V - F

37. (CONCURSO CRATO/2021) Considerando a representação das cotas de nível em um corte representada na figura a seguir, onde é possível perceber a presença de laje, viga e alvenarias de vedação, pode-se interpretar, a partir do que recomenda a NBR 6492, que:



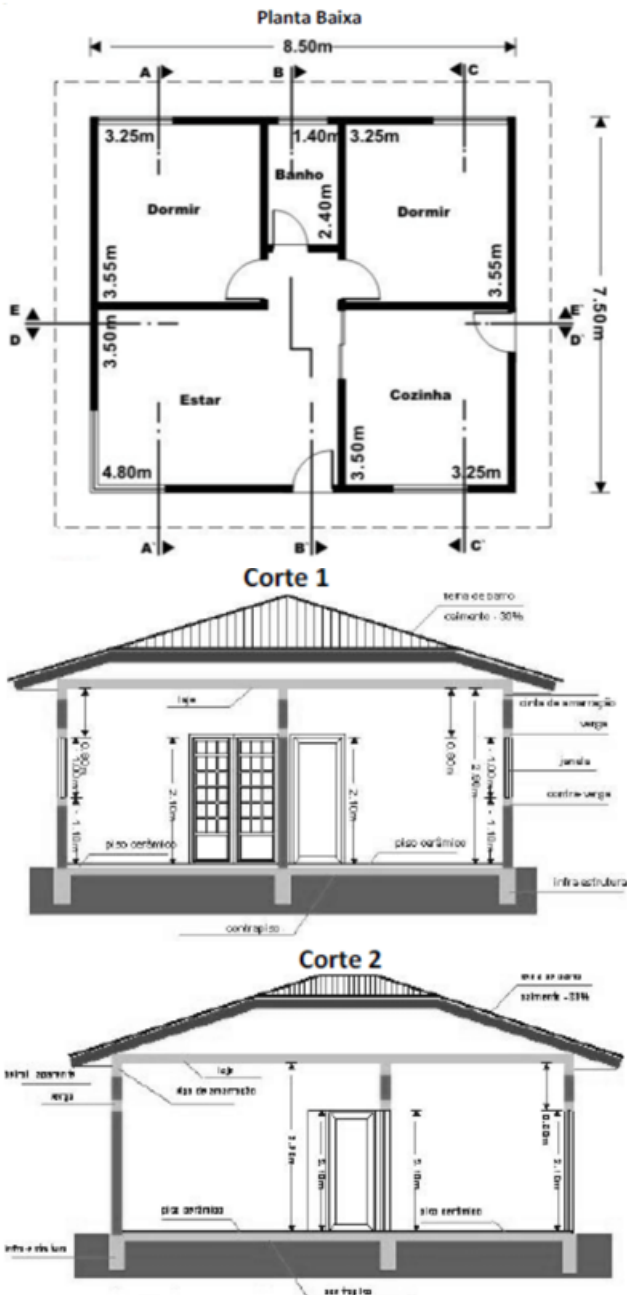
- A) o piso acabado estará a 3,49 metros de altura em relação à referência de nível estabelecida no projeto;
- B) o nível obtido será de 3,49 metros acima do nível do mar ao término da concretagem da laje do pavimento superior;
- C) o piso acabado estará a 3,44 metros de altura em relação ao perfil natural do terreno;
- D) a camada de regularização da laje será de seis centímetros;
- E) o nível acabado está em 3,49 metros de altura em relação à laje do Pav. Superior.

38. (CONCURSO CRATO/2021) Na representação gráfica de projetos de arquitetura, segundo a NBR 6492:1994, as plantas de edificação constituem a vista superior do plano secante horizontal.

A altura deste plano, em relação ao piso de referência é, aproximadamente, de:

- A) 0,50 m
B) 1,00 m
C) 1,20 m
D) 1,50 m
E) 1,80 m

39. (CONCURSO CRATO/2021) Observe a planta baixa de um projeto arquitetônico de uma edificação e, a seguir, os cinco cortes, demarcados pelas linhas AA, BB, CC, DD e EE, na referida planta. Para efeito da elaboração desta questão, a nomenclatura identificatória de cada corte foi suprimida e substituída por um número de 1 a 5. Identifique cada corte, conforme sua localização na planta, relacionando sua nomenclatura identificatória à numeração utilizada nesta questão. (Observação: os desenhos encontram-se fora de escala.):



- A) Corte 1: CC; Corte 2: DD; Corte 3: AA; Corte 4: BB; e, Corte 5: EE;
- B) Corte 1: AA; Corte 2: CC; Corte 3: DD; Corte 4: EE; e, Corte 5: BB;
- C) Corte 1: AA; Corte 2: EE; Corte 3: BB; Corte 4: CC; e, Corte 5: DD;
- D) Corte 1: EE; Corte 2: DD; Corte 3: CC; Corte 4: BB; e, Corte 5: AA;
- E) Corte 1: CC; Corte 2: EE; Corte 3: AA; Corte 4: BB; e, Corte 5: DD.

40. (CONCURSO CRATO/2021) "Norma que fixa as condições exigíveis para representação gráfica de projetos de arquitetura, visando à sua boa compreensão, mas que não abrange critérios de projeto,



que são objeto de outras normas ou de legislação específicas de municípios ou estados". Trata-se da:

- A) NBR 15575:2013
- B) NBR 9050:2015
- C) NBR 6492:1994
- D) NBR 10126:1987
- E) NBR 16537:2016

41. (CONCURSO CRATO/2021) Os loteamentos devem ter seus traçados contendo desenhos, memorial descritivo e cronograma de execução das obras com duração máxima de quatro anos, a serem apresentados às prefeituras municipais, sendo que estes desenhos conterão pelo menos:

- A) a indicação de marcos de alinhamento e de nivelamento localizados nos eixos das vias projetadas;
- B) as dimensões lineares e angulares do projeto, com raios, cordas, arcos, pontos de tangência e ângulos centrais das vias;
- C) a indicação em planta de todas as linhas de escoamento das águas pluviais;
- D) um perfil longitudinal e outro transversal abrangendo todas as vias de circulação;
- E) subdivisão das quadras em lotes, sem dimensões e com numeração.

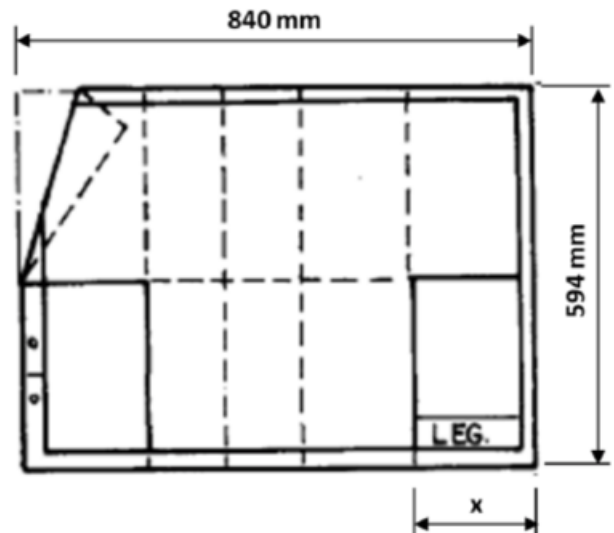
42. (CONCURSO CRATO/2021) Com base na Norma ABNT NBR 15575-1:2013, os requisitos do usuário são:

- A) Segurança, Habitabilidade e Sustentabilidade;
- B) Habitabilidade, Segurança contra o fogo e Desempenho Térmico;
- C) Sustentabilidade, Saúde e Desempenho Lumínico;
- D) Desempenho global, Manutenibilidade e Impacto Ambiental;
- E) Desempenho, Estanqueidade e Conforto.

43. (CONCURSO CRATO/2021) Segundo a ABNT NBR 9050:2015, rampa é toda inclinação da superfície de piso, longitudinal ao sentido de caminhamento, com declividade igual ou inferior a:

- A) 2,5%;
- B) 3,5%;
- C) 5,0%;
- D) 8,5%;
- E) 10,0%;

44. (CONCURSO CRATO/2021) A figura ilustra, esquematicamente uma folha muito empregada na elaboração de projetos arquitetônicos.



Essa folha de desenho é do tipo:

- A) A4
- B) A3
- C) A2
- D) A1
- E) A0

45. (CONCURSO CRATO/2021) Considerando a NBR 9050/2015, espaço necessário para fazer o descrito à sua respectiva dimensão:

- I. Módulo de Referência = 0,80x1,20m
- II. Área para manobra de cadeiras de rodas sem deslocamento para rotação de 90° = 1,20x1,20m
- III. Área para manobra de cadeiras de rodas sem deslocamento para rotação de 180° = 1,50x1,50m



IV. Área para manobra de cadeiras de rodas sem deslocamento para rotação de 360° = Círculo com diâmetro de 1,50m.

É correto afirmar que:

- A) I, II e III estão corretas
- B) II, III e IV estão corretas
- C) II e IV estão corretas
- D) I e II estão corretas
- E) todas estão corretas

46. (CONCURSO CRATO/2021) A composição de custos a seguir apresenta as quantidades e preços dos insumos para a realização de serviço de pintura. Para a execução de $80m^2$ de pintura em três dias de trabalho, considerando 8 horas trabalhadas por dia, seria necessária uma equipe formada por:

Tabela de Custos - Versão 027.1 - ENC. SOCIAIS 83,85%					
C2466 - TINTA ACRÍLICA 2 DEMÃOS C/ ROLO DE LÃ					
Preço Adotado: 37,3300					Unid: M2
Código	Descrição	Unidade	Coefic.	Preço	Total
MATERIAIS					
I2083	TINTA 100% ACRÍLICA	L	0,3000	24,5900	7,3770
TOTAL MATERIAIS					7,3770
MAO DE OBRA					
I2395	PINTOR	H	1,2000	20,7700	24,9240
I0045	AJUDANTE DE PINTOR	H	0,3000	16,7700	5,0310
TOTAL MAO DE OBRA					29,9550
Total Simples					37,33
Encargos INCLUSOS					
BDI					0,00
TOTAL GERAL					37,33

- A) 1 pintor e 2 ajudantes de pintor
- B) 2 pintores e 1 ajudante de pintor
- C) 4 pintores e 1 ajudante de pintor
- D) 4 pintores e 2 ajudantes de pintor
- E) 2 pintores e 2 ajudantes de pintor

47. (CONCURSO CRATO/2021) A determinação da localização de pontos e as orientações de alinhamentos muitas vezes dependem da observação de ângulos e direções. Na topografia as direções são dadas por azimutes e rumos. Convertendo o azimute $217^\circ 44' 05''$ em rumo e o rumo $S73^\circ 14' 30''$ E em azimute, os valores serão, respectivamente:

- A) $S17^\circ 44' 05''$ W; $73^\circ 14' 30''$
- B) $S17^\circ 44' 05''$ E; $73^\circ 14' 30''$
- C) $S52^\circ 15' 55''$ E; $106^\circ 45' 30''$
- D) $S37^\circ 44' 05''$ W; $106^\circ 45' 30''$
- E) $S37^\circ 44' 05''$ W; $163^\circ 14' 30''$

48. (CONCURSO CRATO/2021) Sobre os azimutes é correto afirmar, exceto:

- A) são ângulos horizontais que variam de 0° a 360° ;
- B) não necessitam de indicação do quadrante;
- C) podem ser de vante ou de ré;
- D) são medidos apenas em sentido horário;
- E) são medidos a partir do norte e do sul.

49. (CONCURSO CRATO/2021) As lagoas de estabilização são uma alternativa simples para o tratamento de esgotos domésticos. Lagoa de profundidade média, entre 1,0 m a 2,0 m, em que ocorrem dois processos distintos: aeróbio na superfície e anaeróbio no fundo, é do tipo:

- A) anaeróbia
- B) facultativa
- C) aeróbia
- D) aerada mecanicamente
- E) maturação

50. (CONCURSO CRATO/2021) Sobre as etapas do tratamento de água em uma ETA, somente estão corretas:

- I. na coagulação é adicionada à água um agente químico; geralmente no Brasil utiliza-se o sulfato de alumínio;
- II. a filtração é basicamente o ato de separar, por meio da gravidade, os sólidos sedimentáveis que estão contidos em uma solução líquida;
- III. a desinfecção objetiva a destruição de organismos patogênicos, feita usualmente com aplicação de cloro ou compostos de cloro;



IV. na remoção de sabor e odor, também chamada de abrandamento, é aplicado uma adição controlada de composto de flúor na água.

- A) I e III
- B) II e IV
- C) I e II
- D) II e III
- E) III e IV

51. (CONCURSO CRATO/2021) A Lei No 8666/1993, ainda em vigor, institui normas para licitações e contratos da Administração Pública, dentre elas as modalidades de licitação. Modalidade é o procedimento, ou seja, a forma da organização das fases da licitação pública. "É a modalidade de licitação entre interessados devidamente cadastrados ou que atenderem a todas as condições exigidas para cadastramento até o terceiro dia anterior à data do recebimento das propostas, observada a necessária qualificação". Trata-se de:

- A) tomada de preços
- B) convite
- C) concorrência
- D) leilão
- E) concurso

52. (CONCURSO CRATO/2021) Considere que a Prefeitura Municipal do Crato está licitando uma obra de engenharia por R\$ 1,5 milhões e a compra de outros bens por R\$ 150 mil. As modalidades adotadas devem ser, respectivamente:

- A) concorrência e tomada de preço
- B) tomada de preço e tomada de preço
- C) convite e tomada de preço
- D) concorrência e convite
- E) tomada de preço e convite

53. (CONCURSO CRATO/2021) Uma residência multifamiliar do tipo prédio popular, padrão baixo, contém terreno e 3 pavimentos-tipo, todos com 250m². O custo da construção considerando o valor de março/2021 do custo unitário básico (CUB-CE), será de:

Padrão Baixo		Padrão Normal		Padrão Alto	
R-1	R\$ 1.348,74	R-1	R\$ 1.638,06	R-1	R\$ 1.981,80
PP-4	R\$ 1.280,36	PP-4	R\$ 1.546,74	PP-4	R\$ 1.645,09
R-8	R\$ 1.223,59	R-8	R\$ 1.369,54	R-16	R\$ 1.746,29
PIS	R\$ 943,43	R-16	R\$ 1.328,00		

- A) R\$ 943.430,00
- B) R\$ 1.280.360,00
- C) R\$ 1.328.000,00
- D) R\$ 1.546.740,00
- E) R\$ 1.645.090,00

54. (CONCURSO CRATO/2021) A execução do contrato deverá ser acompanhada e fiscalizada por um representante da Administração especialmente designado para tal fim. Sobre as atribuições da fiscalização estão corretas as afirmações:

- I. paralisar e/ou solicitar o refazimento de qualquer serviço que não seja executado em conformidade com projeto, norma técnica ou qualquer disposição oficial aplicável ao objeto contratado;
- II. realizar testes, exames, ensaio e quaisquer provas necessárias ao controle de qualidade dos serviços e obras objeto do contrato;
- III. substituir qualquer colaborador da contratada que embarace ou dificulte a ação da fiscalização ou cuja presença no local dos serviços seja considerada prejudicial ao andamento dos trabalhos;
- IV. elaborar juntamente com a contratada os boletins de medição, aprovando partes, etapas ou a totalidade dos serviços executados.

- A) I e III
- B) II e IV
- C) somente I
- D) somente III
- E) todas estão corretas



55. (CONCURSO CRATO/2021) A Lei Estadual N° 13.556/2004 dispõe sobre a segurança contra incêndios. É correto afirmar sobre a Lei, exceto:

- A) compete ao Corpo de Bombeiros Militar do Estado do Ceará - CBMCE, o estudo, o planejamento e a fiscalização das exigências que disciplinam a segurança e a proteção contra incêndios nas edificações e áreas de risco;
- B) os planos de urbanização dos municípios, que afetem as larguras livres e os acessos a ruas e avenidas, deverão dispor sobre a forma de facilitar o acesso das viaturas do Corpo de Bombeiros;
- C) o Certificado de Conformidade do Sistema de Proteção contra Incêndio e Pânico terá validade de 1 (um) ano a contar da data de sua emissão;
- D) as edificações residenciais com até dois pavimentos e/ou área total construída não excedente a $750m^2$ (setecentos e cinquenta metros quadrados) deverão atender exigências preconizadas nesta Lei;
- E) o profissional habilitado em formação, treinamento, certificação e recertificação de brigadas de incêndio será o responsável pelo processo de revalidação do Certificado de Conformidade junto ao Corpo de Bombeiros.

56. (CONCURSO CRATO/2021) Não faz parte dos institutos jurídicos e políticos dos instrumentos de planejamento municipal da política urbana:

- A) imposto sobre a propriedade predial e territorial urbana - IPTU;
- B) desapropriação;
- C) tombamento de imóveis ou de mobiliário urbano;
- D) instituição de zonas especiais de interesse social;
- E) usucapião especial de imóvel urbano.

57. (CONCURSO CRATO/2021) A respeito da usucapião especial de imóvel urbano, analise as afirmações a seguir e assinale a alternativa correta:

- I. aquele que possuir como sua área ou edificação urbana de até duzentos e cinquenta metros quadrados, por cinco anos, ininterruptamente e sem oposição, utilizando-a para sua moradia ou de sua família, adquirir-lhe-á o domínio, desde que não seja proprietário de outro imóvel urbano ou rural;

II. o título de domínio será conferido ao homem ou à mulher, ou a ambos, independentemente do estado civil;

III. não é permitido ao possuidor, para o fim de contar o prazo exigido de cinco anos, acrescentar sua posse à de seu antecessor, mesmo que ambas sejam contínuas;

IV. na ação de usucapião especial urbana é obrigatória a intervenção do Ministério Público.

- A) I e IV estão corretas
- B) II e III estão corretas
- C) I, III e IV estão corretas
- D) I, II e IV estão corretas
- E) todas estão corretas

58. (CONCURSO CRATO/2021) O Plano Diretor, aprovado por lei municipal, é o instrumento básico da política de desenvolvimento e expansão urbana. É correto afirmar:

- A) a lei que instituir o plano diretor deverá ser revista, pelo menos, a cada vinte anos;
- B) o plano diretor é obrigatório para cidades com mais de dez mil habitantes;
- C) no caso de cidades com mais de duzentos e cinquenta mil habitantes, deverá ser elaborado um plano de transporte urbano integrado;
- D) o plano diretor é obrigatório para cidades integrantes de áreas de especial interesse turístico;
- E) o plano diretor deverá englobar o território urbano do Município, isentando as áreas rurais e indígenas, se houver.

59. (CONCURSO CRATO/2021) O Sistema Nacional do Meio Ambiente - SISNAMA é constituído por órgãos e entidades da União, dos Estados, do Distrito Federal, dos Territórios e dos Municípios, bem como as fundações instituídas pelo Poder Público, responsáveis pela proteção e melhoria da qualidade ambiental. Destes, o órgão consultivo e deliberativo é o:

- A) Conselho do Governo



- B) CONAMA
- C) IBAMA
- D) ICMBio
- E) SEMA

60. (CONCURSO CRATO/2021) Acerca das Resoluções CONAMA Nº 001/86 e Nº 237/97, é correto afirmar, com exceção de:

- A) o relatório de impacto ambiental (RIMA) refletirá as conclusões do estudo de impacto ambiental (EIA);
- B) necessitam de EIA/RIMA os projetos urbanísticos acima de 100 ha ou em áreas consideradas de relevante interesse ambiental;
- C) o prazo de validade da Licença Prévia (LP) deverá ser, no mínimo, o estabelecido pelo cronograma de elaboração dos planos, programas e projetos relativos ao empreendimento ou atividade, não podendo ser superior a 5 (cinco) anos;
- D) a Licença de Operação (LO) autoriza a operação da atividade ou empreendimento, após a verificação do efetivo cumprimento do que consta das licenças anteriores, com as medidas de controle ambiental e condicionantes determinados para a operação;
- E) o prazo de validade da Licença de Operação (LO) deverá considerar os planos de controle ambiental, não podendo ser superior a 6 (seis) anos.